



DIAGRAMA DE BARRAS

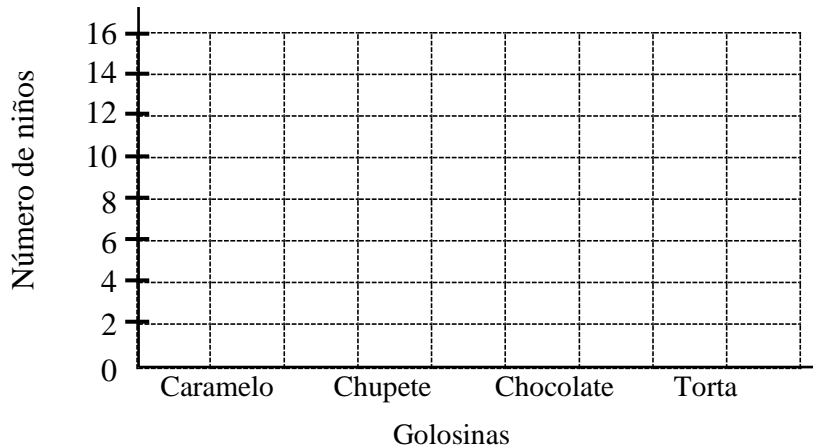
GRAFICA DE BARRAS

Se realizó una encuesta sobre las golosinas preferidas por los niños del 2º grado de la I.E.P. "Virgen del Carmen", elaborándose la siguiente tabla de datos:

Golosinas preferidas		
Golosinas	Conteo	Número
Caramelo		8
Chupete		
Chocolate		
Torta		

- Colorea la gráfica de barras para mostrar las golosinas preferidas por los niños

Las gráficas de barras verticales u horizontales nos permiten analizar y presentar los datos de la información de una manera más rápida, sencilla y objetiva.




- Responde:
 1. Si cada niño eligió sólo una golosina, ¿cuántos niños fueron encuestados?
Respuesta: niños.
 2. ¿Cuál es la golosina preferida?

 3. Si la mitad del total son niñas, ¿cuántos son los niños?
Respuesta: niños.


EJERCICIOS

- Observa la gráfica de barras que muestra la venta de prendas de vestir en el bazar “La elegancia” el día domingo. Luego, escribe (V) si es verdad o (F) si es falso.

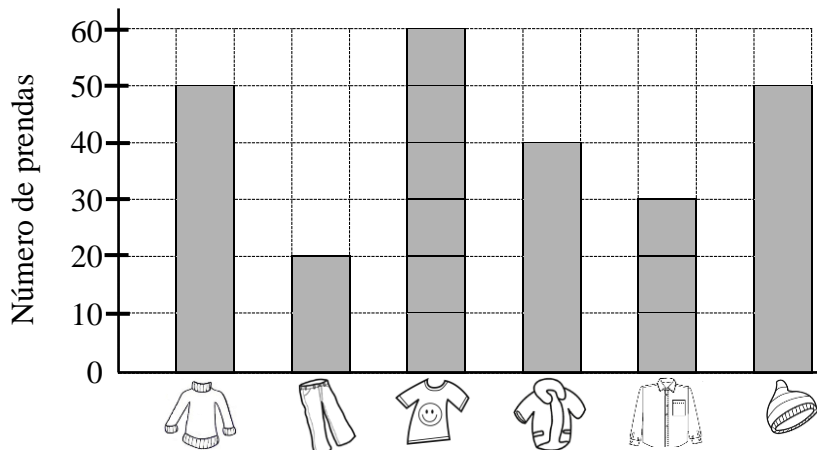
a) En total se vendieron 250 prendas. ()

b) Más  que  ()

c) Igual  como  ()


d) Menos  que  y  ()

e) 20  menos que  ()

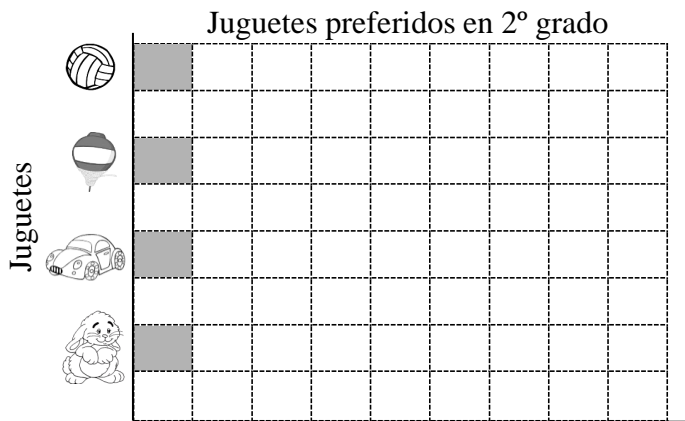




- Los niños del 2º grado dibujaron sus juguetes preferidos. Completa la tabla de datos marcando I por cada juguete. Luego, haz la gráfica



JUGUETES PREFERIDOS EN 2º		
JUGUETES	CONTEO	TOTAL











PICTOGRAMAS

Un pictograma es una gráfica que representa la información de datos mediante dibujos. Cada dibujo representa más de un dato.

- Observa la siguiente gráfica de la venta de litros de leche:

Días	Números de litros
Lunes	
Martes	
Miércoles	
Jueves	



Viernes	 
Sábado	     



Cada  representa 6 litros.

- De acuerdo a la tabla anterior, responde:

1. ¿Cuántos litros de leche vendió cada día?

a. Lunes:

b. Martes :

c. Miércoles:

d. Jueves

e. Viernes :

f. Sábado:

2. ¿Cuántos litros vendió el martes y miércoles?

Respuesta:

Vendió litros.

3. ¿Cuántos litros vendió los días jueves y viernes?

Respuesta:

Vendió litros.

4. ¿Cuántos litros más vendió el sábado que el lunes?

Respuesta:

Vendió litros más

5. ¿Cuántos litros más se vendió el martes que el viernes?

Respuesta:

Vendió litros más.