



EL MAPA DEL PERÚ

- Ubican los puntos cardinales utilizando diversos medios.

Orientación y ubicación de los puntos cardinales.

Orientarse en el espacio es ubicar cuatro puntos cardinales en el horizonte de un lugar cualquiera.

Los puntos cardinales que debemos ubicar en el espacio son: norte, sur, este y oeste

Nos orientamos por el sol

En la práctica, sin el auxilio de la brújula, nos orientamos utilizando al sol como punto de referencia. En efecto, en nuestra localidad, observamos diariamente el punto por donde el sol sale en el horizonte. Este punto es el ESTE. Si extendemos los brazos señalando con el derecho el punto por donde aparece el sol, tenemos el ESTE. A nuestra izquierda queda el OESTE, a nuestro frente, el norte y a nuestra espalda el sur.

- Ubicándonos en el mundo

El Perú se encuentra en el continente americano






- Teniendo en cuenta los puntos cardinales completa los límites del Perú.
El Perú se encuentra ubicado en la parte central y occidental de América del Sur. El territorio peruano tiene una superficie de 1285 215 km² y como has podido observar ocupa el tercer lugar, en extensión en América del Sur.

¿Sabias?


Para leer un mapa debemos guiarnos de la leyenda, un texto que se ubica en un recuadro que aparece en un extremo del mapa y en él se encuentran las indicaciones para interpretarlo.

Generalmente presenta:

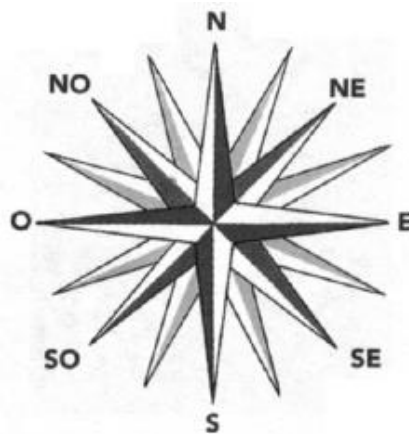
1. El título, que nos indica el tema
 2. La escala que señala en cuánto está reducido el territorio representado.
 3. Los signos convencionales que nos ayudan en la lectura del mapa.
- En algunos mapas aparecen estos dibujos



• *La brújula.*



• *Nos orientamos.*



• *La rosa náutica.*

Esto es una brújula, este instrumento tiene una aguja imantada, montada sobre un eje, nos indica siempre el polo norte. El lado opuesto es el sur; la derecha (mirando la brújula) está al este y en el lado opuesto (Izquierda) el oeste.



- Observa el mapa del Perú



- ¿Cuántos departamentos hay en el Perú?

- Colorea de verde la capital del Perú y de rojo el departamento donde vives.



Principales ciudades de nuestro país:

Arequipa

Esta ciudad del sur del país es conocida como la Ciudad Blanca, porque muchas de sus casas e iglesias están hechas de sillar, una piedra de origen volcánico.

Es la segunda ciudad más grande del Perú: tiene más de 760 mil habitantes.

Además de tener muchos atractivos turísticos, esta ciudad es un importante centro industrial, donde hay fábricas de alimentos, bebidas, textiles, acero y cemento.



Trujillo

Esta ciudad de la costa norte tiene un poco más de 650 mil habitantes y es la tercera ciudad más grande del Perú.

Trujillo posee muchos atractivos turísticos. En el centro hay viviendas antiguas y casas coloniales.

A pocos kilómetros de la ciudad está Chan Chan, considerada como la ciudad de barro más grande del mundo.

En Trujillo también hay muchas industrias dedicadas a la fabricación de calzado y artículos de madera y metal.

Iquitos

Esta ciudad no es tan grande como las anteriores: tiene alrededor de 300 mil habitantes. Es la capital del departamento de Loreto y está ubicada a orillas del río Amazonas.



ACTIVIDADES

- 1) Busca información sobre una ciudad del Perú y elabora un TRIFOLIADO. No olvides mencionar la ubicación, los atractivos turísticos y las principales actividades de la ciudad seleccionada.
- 2) Completa el siguiente crucigrama.
 - a. El Perú limita por el sur con...
 - b. La capital del Perú es...
 - c. Para ubicar los distintos lugares del Perú, empleo un...
 - d. Es uno de los países con los que limitamos por el norte.



3) Analiza la información que contiene este mapa. Luego, responde.



a) ¿Qué representa este mapa?

b) ¿Qué elemento del mapa te informa acerca de los símbolos empleados en él?

c) Observa este mapa y ubica la provincia en la que vives. ¿Cuál es?

d) ¿Cuáles son los límites de la región Lima?

Norte: _____

Sur: _____

Este: _____

Oeste: _____

ALERTA: Pegar el mapa político de su departamento

- Completa el cuadro:

Yo vivo en la localidad de	
Ubico en el distrito de	
Provincia de	
Departamento de	



- Los límites de mi departamento son:

Por el norte	
Por el sur	
Por este	
Por el oeste	