




LAS REGIONES DEL PERÚ

- Se les presentará un mapa con las 4 regiones naturales del Perú.



- Luego interrogarles:
¿En cuántas partes está dividido el Perú en este mapa? ¿Qué representaran estas partes?



¿Cómo se llama a cada una de estas partes?

¿Qué recursos naturales tendrá cada región?

- Por grupos leen los siguientes textos informativos, que posteriormente cada uno sistematizará la información en un cuadro.

PARA EL GRUPO Nº 1

¿Qué nos ofrece el mar peruano?

- Una gran variedad de peces que se consumen directamente (frescos) o congelados y ensaladas.
- En el Perú se practica la pesca artesanal y la industrial. El mar peruano es parte del Océano Pacífico que baña las costas de nuestro país, tiene 200 millas de extensión.

PARA EL GRUPO Nº 2

EN LA COSTA

- Es una franja de tierra que se encuentra paralela al mar, tiene valles, pampas, estribaciones, depresiones y desiertos. La actividad agrícola en la costa es muy productiva porque utiliza maquinaria moderna. La caña de azúcar, el algodón y el arroz son cultivos que se emplean para industria.

Se dedican a la ganadería (ganado vacuno), que origina la industria lechera., también se dedican a la avicultura (crianza de aves)

¿Sabías que?

Las estribaciones son cadenas de cerros de poca elevación que están en los valles? Las depresiones son áreas hundidas bajo el nivel del mar.

PARA EL GRUPO Nº 3

EN LA SIERRA

- Es la región más accidentada y montañosa de nuestro país, donde destaca la Cordillera de los Andes.
- La agricultura es la principal actividad económica, produce papa, maíz y en menos cantidad hortaliza cereales y frutales.
- La minería ha alcanzado buen desarrollo, ya que produce cobre en los centros mineros de Marcota y Cerro Verde, hierro en el centro minero de Marcota, y oro en el río Madre de Dios y en el centro minero de Yanacocha (Cajamarca)
- Predomina la crianza de ganado vacuno, ovino y alpaca.


PARA EL GRUPO Nº 4
¿SABÍAS QUE LA CORDILLERA DE LOS ANDES ES UNA CADENA DE MONTAÑAS?
EN LA SELVA

- Es la zona más extensa, de vegetación abundante y caudalosos ríos. Las principales actividades son la explotación de petróleo en la selva norte (provincia de Loreto y alto amazonas) y la explotación forestal, que consiste en extraer recursos maderos como la caoba, cedro, ishpingo, tornillo, etc.
- Esta zona también es apropiada para la agricultura de café, té coca, palmeras, árboles frutales y plantas medicinales.

Región	Características	Actividades económicas

ACTIVIDADES ECONÓMICAS DE LAS REGIONES NATURALES DEL PERÚ

Las regiones de nuestro país son: Costa, Sierra, Selva y mar peruano.

Región	Características	Actividades económicas
COSTA	- Tiene valles, pampas, estribaciones, desiertos.	- Agricultura: caña de azúcar, algodón, arroz. - Ganadería: ganado vacuno. - Avicultura: (crianza de aves) - Industria: Lechera, azucarera, algodонера.
SIERRA	- Es la más accidentada y montañosa. - Destaca la cordillera de los andes.	- Agricultura. Papa, maíz. - La Minería. Cobre, hierro y oro. - Ganadería: ganado vacuno, ovino y alpaca.
SELVA	- Vegetación abundante con ríos caudalosos.	- Explotación de petróleo. - Explotación forestal: árboles, maderos como caoba, cedro, tornillo, etc. - Agricultura: café, te, coca, cacao, palmeras, árboles frutales y plantas medicinales.
MAR PERUANO	- Tiene una extensión de 200 millas	- La pesca: artesanal industrial - Hay una gran variedad de peces

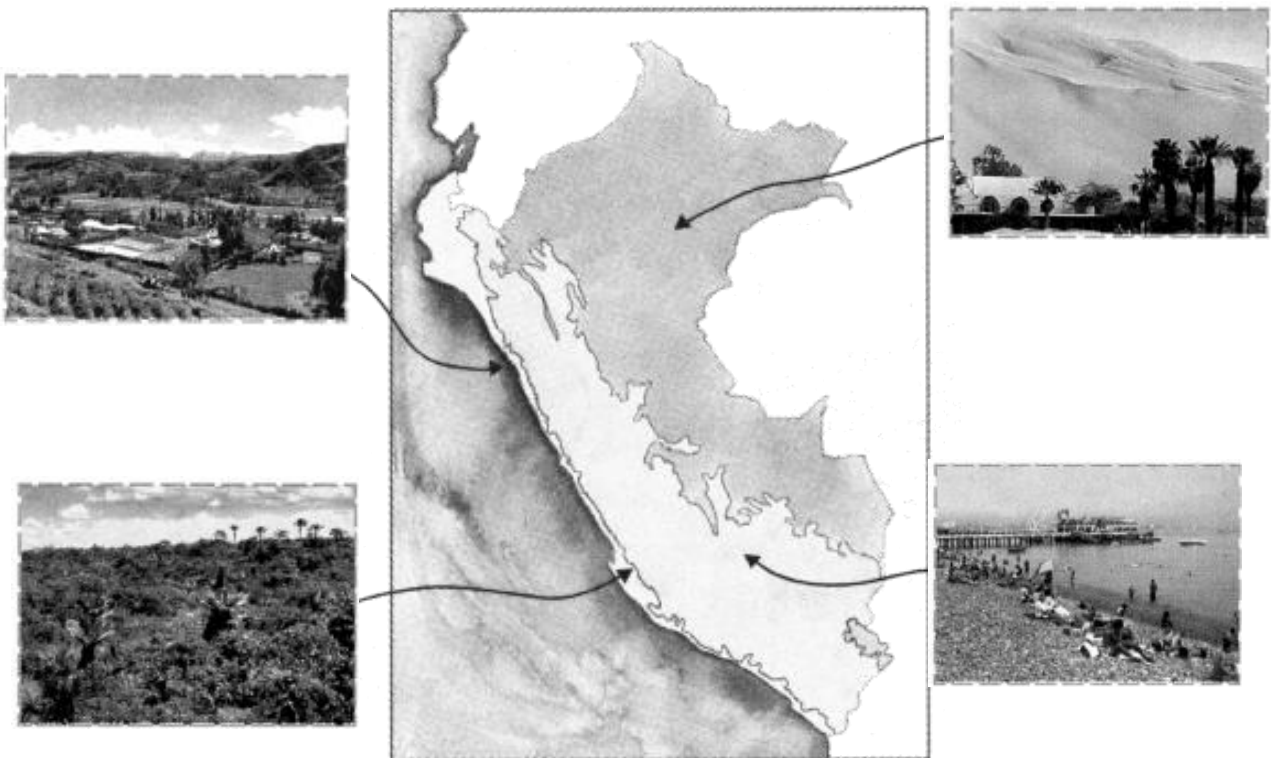
- Extensión: Dibuja o pega el mapa productivo del Perú.



- Reconocen la división política del Perú y sus regiones

El Perú cuenta con muchos y variados atractivos: abundantes riquezas naturales, monumentos arqueológicos de prestigio mundial, ríos, folklore, costumbres y tradiciones dignas de ser apreciadas, no solo por los turistas extranjeros sino, también, a través del turismo interno por todos y cada uno de nosotros. Sólo el conocimiento de nuestro país nos puede conducir a amarlo y sentirnos orgullosos de lo que poseemos.

- Observa el mapa del Perú y los dibujos de su alrededor



- Si observas detenidamente estas imágenes notarás que son paisajes pero
¿Qué es un paisaje?

Un paisaje es el medio o lugar donde se encuentran concentrados recursos animales (fauna) y vegetales (flora) y el hombre.

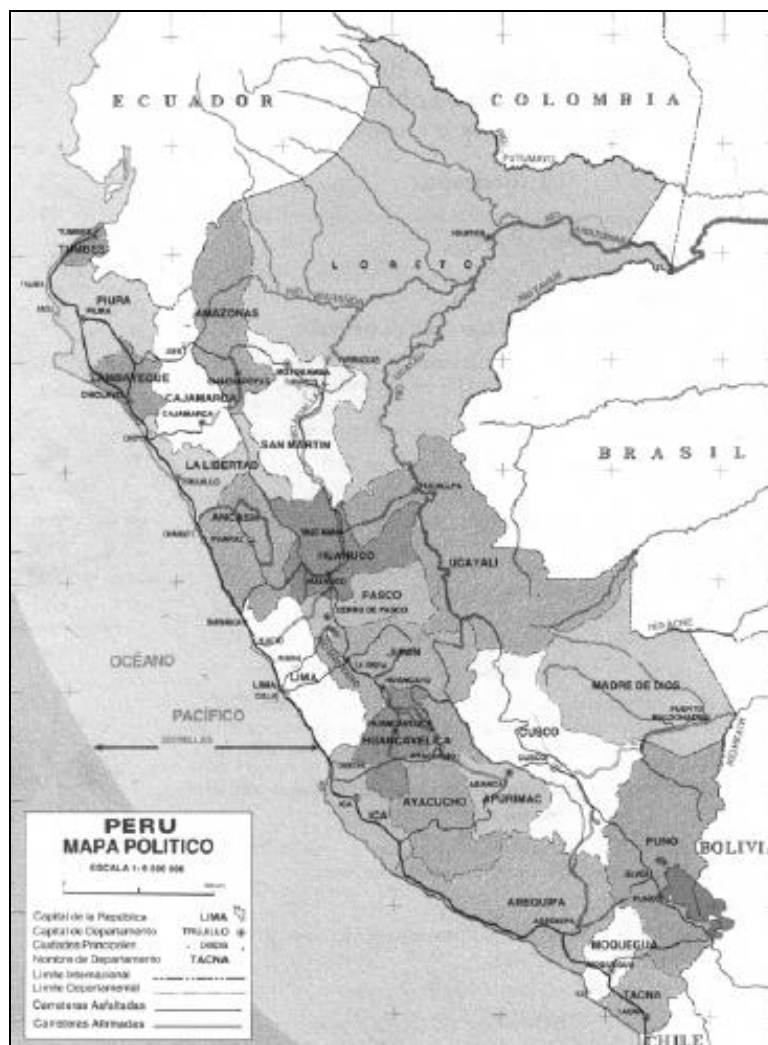
El Perú se dividió tradicionalmente en cuatro regiones naturales: mar territorial: Costa, Sierra y Selva.



- Completa el cuadro

Paisajes Naturales	Región
Playa	
Desierto	
Paisaje serrano	
Bosque amazónico	

- Observa el mapa político del Perú identificando los departamentos con sus capitales



- Identifican los recursos naturales y los clasifican

a) El Mar Peruano

Llamado también Mar de Grau. El mar peruano se extiende desde la costa hasta 200 millas mar adentro. Nuestro mar es uno de los más ricos



del mundo. Se afirma esto porque allí existe una gran variedad de peces y otros animales marinos como ballenas, delfines, tiburones, focas, caracoles, conchas de abanico, erizos, entre otros.

Esta abundancia de recursos se explica por la presencia de dos corrientes marinas.

La primera llamada Corriente Peruana de Humboldt cuya característica esencial es que sus aguas son frías.

La segunda es la corriente llamada del Niño de aguas calientes que se desplaza de norte a sur.

ACTIVIDAD

- Dibuja las especies más representativas de nuestro mar peruano

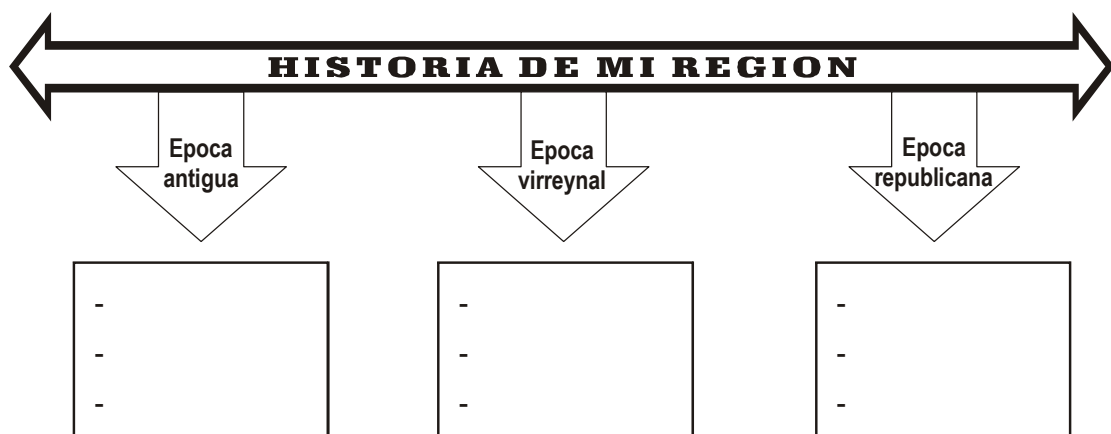
b) La costa

Es una franja de tierra que se encuentra en paralela al mar, tiene valles, pampas, estribaciones, depresiones y desiertos. La actividad agraria en la costa es muy productiva porque utiliza maquinarias modernas. La caña de azúcar, el algodón y el arroz son cultivos que se emplean para la industria.

El clima de la región costera es muy húmedo. Entre diciembre o mayo caen lluvias y se producen inundaciones en el norte del país. Esto se debe a la corriente del niño.

- Dibuja los departamentos que constituyen la franja costera.
- Averiguar por grupos los acontecimientos más importantes de su región teniendo en cuenta estas etapas.
- Organizarán el producto de sus investigaciones en una línea de tiempo.

Mi Región a lo largo de la historia





- Completa la siguiente ficha:

Mi ciudad o región fue fundada el:
Por
(Nombres de los fundadores)
En el año

Extensión: gráfica los principales acontecimientos históricos de tu región.

- Para trabajar clima y relieve de su región.

- Mostrarle imágenes de lugares.



- Interrogarles
 - ¿Qué observas en las imágenes?
 - ¿Cómo es el relieve en cada ilustración?
 - ¿Cómo será el clima en estos lugares?

¿Cómo es el clima y relieve en tu región?

<p>Relieve: Son irregularidades de la superficie terrestre formada por rocas y suelos.</p> <p>Clima: Son los cambios prolongados que se dan por años en una determinada región.</p>



- El clima y relieve en las regiones naturales:

Regio-nes	Clima	Relieve
COSTA	El clima es variado con mucha humedad.	Hay llanuras, colinas y cerros, desiertos, dunas y algunos valles.
SIERRA	En las zonas altas es muy frío, con precipitaciones. En las zonas más bajas, es templado, con lluvia, pero gran parte del año hay sequías.	Por la presencia de la Cordillera de los Andes es accidentado: con quebradas, cumbres, valles estrechos y relieve ondulado, abismo profundos, cadenas de montañas y cañones.
SELVA	Clima cálido pero húmedo y con precipitaciones.	En la selva alta el relieve es accidentado con cadenas de montañas y cañones. En la selva baja es menos accidentado, con colinas y cimas de poca altura.

ACTIVIDAD

- Realiza un cuadro sobre tu región anotando el clima, relieve. Luego ilustra dibuja el relieve.
- Elaboran organizadores gráficos de cada región del Perú como el ejemplo siguiente.

