



PROBLEMAS DE ADICIÓN Y SUSTRACCIÓN


- Resuelve los siguientes problemas con adición y sustracción de números naturales

1. En una canasta había 12 piñas. Si quedaron 4 piñas. ¿Cuántas piñas faltan?

$$\begin{array}{r} \square - \\ \square \\ \hline \square \end{array}$$

- a) 8 b) 10 c) 16 d) 6


2. Celia compró un libro de cuentos y un lapicero. ¿Cuánto pagó en total?



$$\begin{array}{r} \square + \\ \square \\ \hline \square \end{array}$$

- a) 11 b) 13 c) 15 d) 17

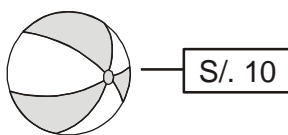
3. En mi cumpleaños me regalaron 7 billetes de 10 nuevos soles. Compré un carrito. ¿Con cuánto me quedo?



$$\begin{array}{r} \square - \\ \square \\ \hline \square \end{array}$$

- a) 34 b) 36 c) 35 d) 40

4. Tengo 2 billetes de 10 nuevos soles. Compré una pelota. ¿Cuánto me queda?



$$\begin{array}{r} \square - \\ \square \\ \hline \square \end{array}$$

- a) 12 b) 5 c) 20 d) 10

5. A una bolsa que tiene 12 manzanas le aumentaron 7. ¿Cuántas manzanas hay ahora?

$$\begin{array}{r} \square + \\ \square \\ \hline \square \end{array}$$

- a) 16 b) 19 c) 17 d) 14



6. Para la actuación por Fiestas Patrias confeccionaron 48 escarapelas y 36 banderitas. ¿Cuántos símbolos confeccionaron?

$$\begin{array}{r} \square + \\ \square \\ \hline \square \end{array}$$

- a) 66 b) 76 c) 74 d) 84

7. Para la fiesta de mi hermanito, mi mamá preparó 53 vasos de mazamorra. Los invitados comieron 35. ¿Crees que quedaron más vasos o menos vasos de mazamorra? ¿Cuántos vasos de mazamorra quedaron?

$$\begin{array}{r} \square - \\ \square \\ \hline \square \end{array}$$

- a) 16 b) 20 c) 18 d) 14

8. Mi abuelita nos regaló 97 chocolates. Ya hemos comido 27. ¿Cuántos chocolates nos quedan?

$$\begin{array}{r} \square - \\ \square \\ \hline \square \end{array}$$

- a) 70 b) 77 c) 87 d) 67

- ¿Qué operación debes hacer?

Lee cada situación y pinta al niño que dice la respuesta correcta

1. Khaterine viajó a Brasil y regresa en 30 días. Si ya pasaron 13 días. ¿Cuántos días faltan para que regrese?

Para resolver necesitamos hacer una sustracción

No. Para resolver necesitamos hacer una adición





2. Yoselin tiene 57 libros forrados y 29 sin forrar. ¿Cuántos libros tiene Yoselin en total?

Tengo que hacer una adición

Uhm.. yo digo que tienes que hacer una sustracción



3. El señor cartero tiene 73 cartas y recoge algunas más del correo. Si al final del día repartió 82. ¿Cuántas cartas recogió del correo?

Me parece que una sustracción

Es una adición



• Elige la operación que resuelva el problema, luego responde

1. Don Manuel, el carpintero, armó 2 docenas de sillas, 6 mesas y 4 carpetas ¿Cuántos muebles armó Don Manuel?

$$24 + 6 + 4 = \square$$

$$24 + 6 - 4 = \square$$

$$24 - 6 + 4 = \square$$

$$24 - 6 - 4 = \square$$

Rpta: _____



2. Haré 3 decenas de galletas de chocolate, 2 decenas de vainilla y 6 muñequitos ¿Cuántas galletas prepararé?

$$30 + 20 + 6 = \boxed{}$$

$$30 - 20 + 6 = \boxed{}$$

$$30 - 20 - 6 = \boxed{}$$

Rpta: _____

3. Daniel tiene 85 sombreros de niña y 13 de niño, guardó 10 y vendió el resto ¿Cuántos sombreros vendió?


$$85 + 13 + 10 = \boxed{}$$

$$85 - 13 + 10 = \boxed{}$$

$$85 + 13 - 10 = \boxed{}$$

Rpta: _____

• ¡GRAN REMATE! bajaron los precios. Todos los artículos cuestan 18 nuevos soles menos. Escribe los nuevos precios.




S/. 28 →




S/. 97 →



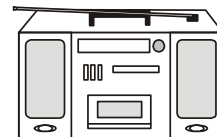
S/. 42 →



S/. 33 →



S/. 99 →



S/. 95 →



- Resuelve problemas de números naturales de adición y sustracción

1. Alex tiene algunas mascotas, como: 46 peces, 18 pollitos y 14 pequeños ratoncitos. ¿Cuántas mascotas tiene Alex?

Datos	Operación
Respuesta:	

2. En una tienda habían 52 aves, pero se vendieron 25. ¿Cuántas aves quedaron en la tienda?

Datos	Operación
Respuesta:	

3. Sonia fue a la tienda a comprar 81 panes para la fiesta de su salón pero en el camino perdió 25 panes. ¿Con cuántos panes llegó a su casa?

Datos	Operación
Respuesta:	



4. La clase de la señorita Sila tenía 38 alumnos, y luego llegaron 14 niños más. ¿Cuántos alumnos tuvo al final del año la señorita Sila?

Datos	Operación
Respuesta:	

5. Cecilia tenía 24 caramelos, 12 chupetines y 17 gomitas. ¿Cuántos dulces tenía en total?

Datos	Operación
Respuesta:	

6. Ana tenía 83 cartas de su juego favorito pero perdió 54 cartas. ¿Cuántas cartas le quedaron a Ana?

Datos	Operación
Respuesta:	



7. Vilma tiene 45 patitos y Miriam 25 patitos más que Vilma. ¿Cuántos patitos tiene Miriam?

Datos	Operación
Respuesta:	

8. En su cumpleaños Pamela regaló 48 globos rojos y 37 azules. ¿Cuántos globos regaló?

Datos	Operación
Respuesta:	

9. En una competencia de atletismo participaron 36 niñas y 43 niños. ¿Cuántos niños compiten?

Datos	Operación
Respuesta:	