



SISTEMA MONETARIO

- Reflexionan sobre lo siguiente:
Como hemos aprendido uno de los aportes que trajeron los españoles al Perú fue la moneda.
- Interrogarlos:
¿Cómo se habrá llamado la moneda que se usó en el Virreinato?
¿Cómo se llama nuestra moneda actualmente?
¿Para qué sirve la moneda?
¿Qué monedas utilizarías para cambiar un billete de s/.10?
- Sistematizan la información en sus cuadernos.

El Sistema Monetario del Perú.

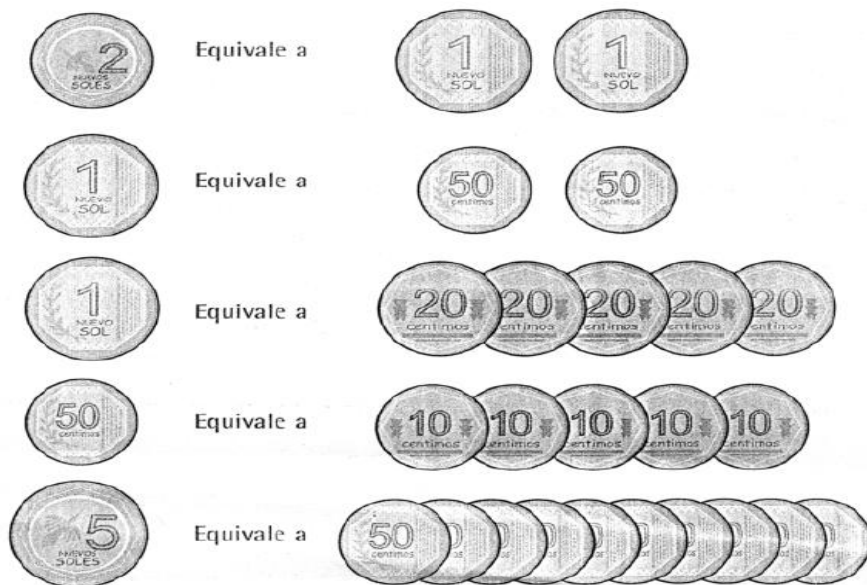
- En el Perú desde 1991, la moneda vigente es el Nuevo Sol.
Símbolo es -----> S/.
- Usamos el dinero al realizar compras, pagar servicios y hacer intercambios comerciales.

SOLES Y CENTIMOS

Estas son monedas peruanas:



Con las monedas podemos establecer las siguientes equivalencias:



De aquí en adelante, al referirnos a nuevos soles emplearemos la palabra soles.



Pregunta:

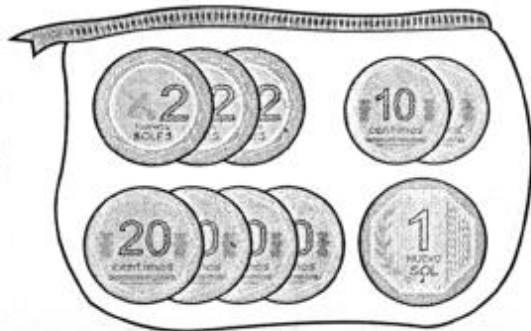
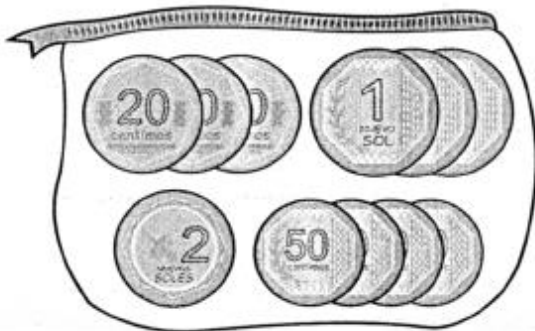
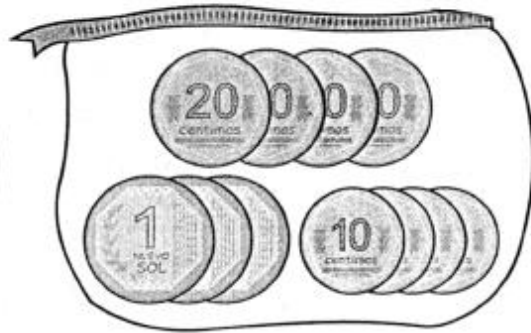
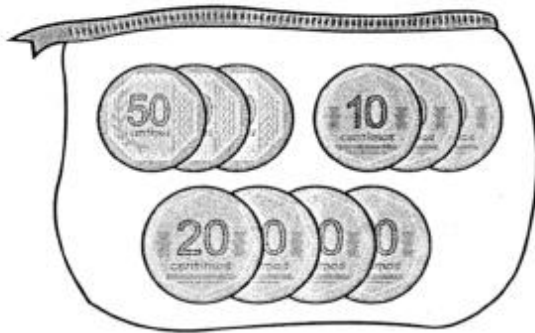
¿Cuántas monedas de 20 céntimos se necesitan para tener 2 soles?

Así como 5 monedas de 20 céntimos equivalen a 1 sol.

10 monedas de 20 céntimos equivalen a 2 soles.

A. Responde en tu cuaderno las siguientes preguntas.

1. ¿Cuántas monedas de 50 céntimos se necesitan para tener dos soles?
2. ¿Cuántas monedas de 20 céntimos equivalen a una moneda de 5 soles?
3. ¿Has visto alguna vez una moneda de 5 céntimos? Hoy en día esa moneda no se usa; pero hasta unos años, todavía se usaba.
4. ¿Cuántas monedas de 5 céntimos se necesitan para tener 1 sol?
5. Indica ¿Cuánto dinero hay en cada monedero?

















B. Forma las siguientes cantidades empleando el menor número de monedas de 20 y 50 céntimos:

- 2 soles y 20 céntimos.
- 3 soles y 60 céntimos.
- 1 sol y 30 céntimos.
- 1 sol y 70 céntimos.
- 2 soles y 10 céntimos.

Responde en tu cuaderno las siguientes preguntas:

1. Encierra en un círculo las monedas que necesitarías para comprar cada producto mostrado con la cantidad exacta.

 <p>5 soles</p> 	 <p>1 sol y 20 céntimos</p> 
 <p>3 soles y 10 céntimos</p> 	 <p>2 soles y 50 céntimos</p> 
 <p>1 sol</p> 	 <p>1 sol y 80 céntimos</p> 

2. Encierra la cantidad de dinero que recibirías de vuelto en cada uno de los siguientes casos por ejemplo,

Si cuesta 3 soles y 20 céntimos y pago con S/. 5 recibiré de vuelto:
1 moneda de 1 sol





1 moneda de 50 céntimos

1 moneda de 20 céntimos

1 moneda de 10 céntimos

Cuesta
3 soles y 20 céntimos

Pago con


Vuelto


Cuesta
1 sol y 70 céntimos

Pago con


Vuelto


Cuesta
2 soles y 50 céntimos

Pago con


Vuelto



Cuesta
40 céntimos

Pago con


Vuelto



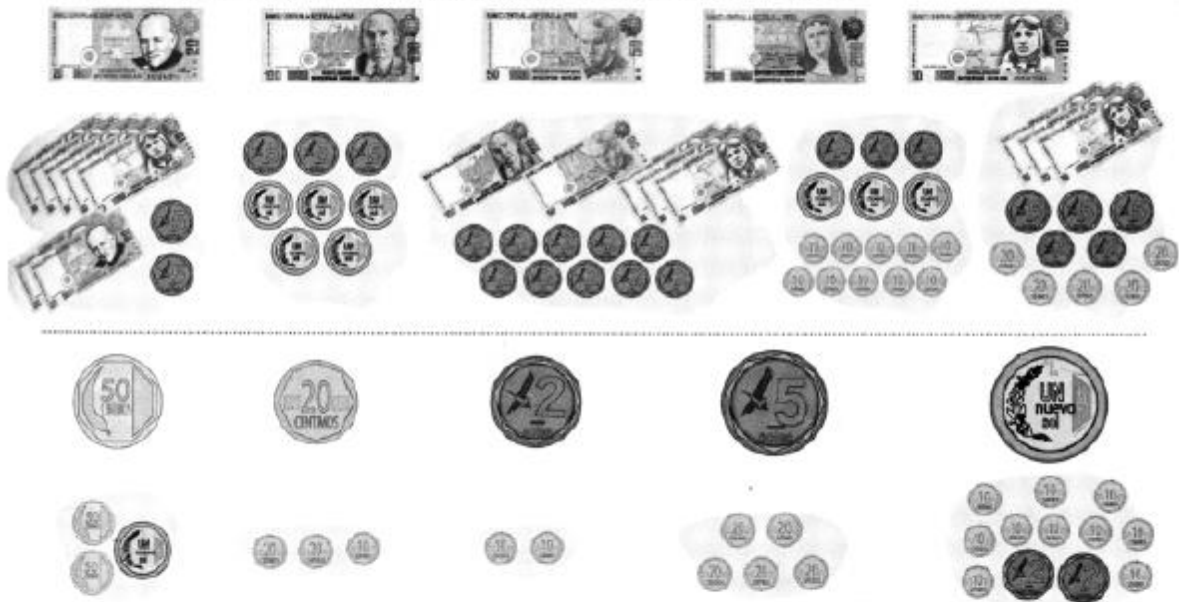

- Observa las monedas y billetes que utilizamos en el Perú, y escribe la expresión decimal que corresponde a cada uno.




Las cantidades de dinero se escriben hasta con 2 decimales.





- Podemos cambiar monedas por otras de menor valor que juntas sumen la cantidad deseada. Une cada cantidad con su equivalencia.



- Naira tiene en su monedero 4 monedas de veinte céntimos, 2 monedas de un sol y 6 monedas de diez céntimos. ¿Cuánto dinero tiene?

 → $0,20 + 0,20 + 0,20 + 0,20 = 0,80$

 → $0,10 + 0,10 + 0,10 + 0,10 + 0,10 + 0,10 =$

 → $1,00 + 1,00 =$

Naira tiene S/.

Cuando sumamos dinero, los nuevos soles los consideramos unidades completas y los céntimos son la parte decimal.



Ejercitemos:

1. Escribe «V» (verdadero) o «F» (falso) según corresponda:
 - a) Un billete de S/. 10,00 equivale a dos monedas de S/. 5 ()
 - b) Un billete de S/. 20,00 equivale a 5 monedas de S/. 5 ()



- c) Un billete de S/. 50,00 equivale a 25 monedas de S/. 2 ()
- d) 4 monedas de S/. 0,50 equivalen a una moneda de S/. 2 ()
- e) Un billete de s/. 100,00 00 equivale a 2 billetes de S/. 50 ()

2. Empleando monedas de S/. 2, 00 S/. 0,50 S/. 5,00 y billetes de S/. 10,00 y S/. 20,00 representa cantidad que se le pide en cada recuadro.

Cantidad	Billetes y monedas que necesito
22,50	
45,00	
60,50	
27,00	

3. Un vendedor va al Banco a cambiar sencillo. Dibuja el dinero que le dio el señor que atiende en esa ventanilla.

- S/. 50 en billetes de S/. 10
- S/. 10 en monedas de S/. 2
- S/. 100 en billetes de S/. 20
- S/. 10 en monedas de S/. 1

PROBLEMAS

- a) Marcos compró 5 libros de la historia del Perú a S/. 25 cada uno y 3 libros de leyendas peruanas a S/. 35 cada uno ¿Cuánto gastó en total?
- b) Juana compró 7 cuentos a S/. 12 cada uno. Si pagó con 100 soles. ¿Cuántos soles recibió de vuelto?
- c) Para invitar a sus amigos en el día de su santo, Antonio compró 12 helados de vainilla a 2,5 soles cada uno y 8 helados de chocolate a 3 soles cada uno. Para pagar entregó un billete de 100 soles ¿Cuánto le devolvieron?
- d) Félix tiene en su alcancia: 2 billetes de 100 soles, 5 billetes de 50 soles, 12 billetes de 10 soles y 46 monedas de 5 soles. ¿Cuántos soles tiene?
- e) Alfredo tiene en su alcancia: 126 monedas de 5 soles, 84 monedas de 1 sol, 72 monedas de 2 soles y 65 monedas de 0.50 céntimos. Con este dinero compra una cartera que le cuesta 730 soles ¿Cuántos soles le sobran?
- f) ¿Cuántos billetes de 100 soles son necesarios para tener 1000 soles?
¿Cuántos billetes de 100 soles son 4000 soles? ¿Y 5000 soles?
- g) Cuántas monedas de 5 soles me darían por un billete de 500 soles?



- h) Un objeto vale 670 soles ¿Cuánto me devuelven si pago con:
- 10 billetes de 100 soles
 - 1 billete de 100, uno de 200 y 8 billetes de 200
 - 4 billetes de 100, uno de 200, 10 billetes de 100, 10 monedas de 5 soles y 1 moneda de 2 soles
- i) El padre de Luis paga en una heladería 4 helados de 4 soles y 3 cafés de 4.5 soles con un billete de 50 soles. ¿Cuántos soles le devolverán?
- j) Cuántas monedas de 5 soles me darán por 100 soles?
- k) Por 284 billetes de 50 soles, ¿cuántos billetes de 10 soles me darán?
- l) Un señor lleva al banco una caja con 400 monedas de 2 soles para cambiarlas por billetes de 100 soles. ¿Cuántos billetes le darán?
- Observa la siguiente boleta de compra y completa los datos que faltan.

SIPERMERCADO "LA PERUANITA"	
¡precios más bajos toda una vida!	
RUC 30142857475	
Papel higiénico	6,50
Mazamorra morada	2,20
Mantequilla	3,50
Queso	12,00
Café	10,30
Cocoa	2,80
Total	S/. <input type="text"/>
Efectivo	S/. 50,00
Vuelto	S/. <input type="text"/>
29/05/06 13:14 Cajera: Malena	

- Recolecta y pega boletas de compra
- Crea y resuelve problemas utilizando las boletas de compra